

1. Najdi a zakroužkuj názvy jarních měsíců.

BEREZEBŘEZENENNLEDČERBUDÍDUBENŘÍJÍČEVZÁŘEKVIKVĚTENÍSRPÚNPROSIN

2. Spoj čárami části pranostik.

Kolik je v březnu mlh -

máj se květinami směje.

Chladný máj -

bude pěkná travička.

Dá-li nebe deštička -

tolik je v květnu mrazů.

Když v březnu fouká a v dubnu leje,

ve stodole ráj.

3. Zakroužkuj všechny možnosti, které na jaře běžně děláme.

a) sejeme zeleninu na zahradě

b) těšíme se z prvních květin

c) chodíme do školy

d) koupeme se na koupalištích

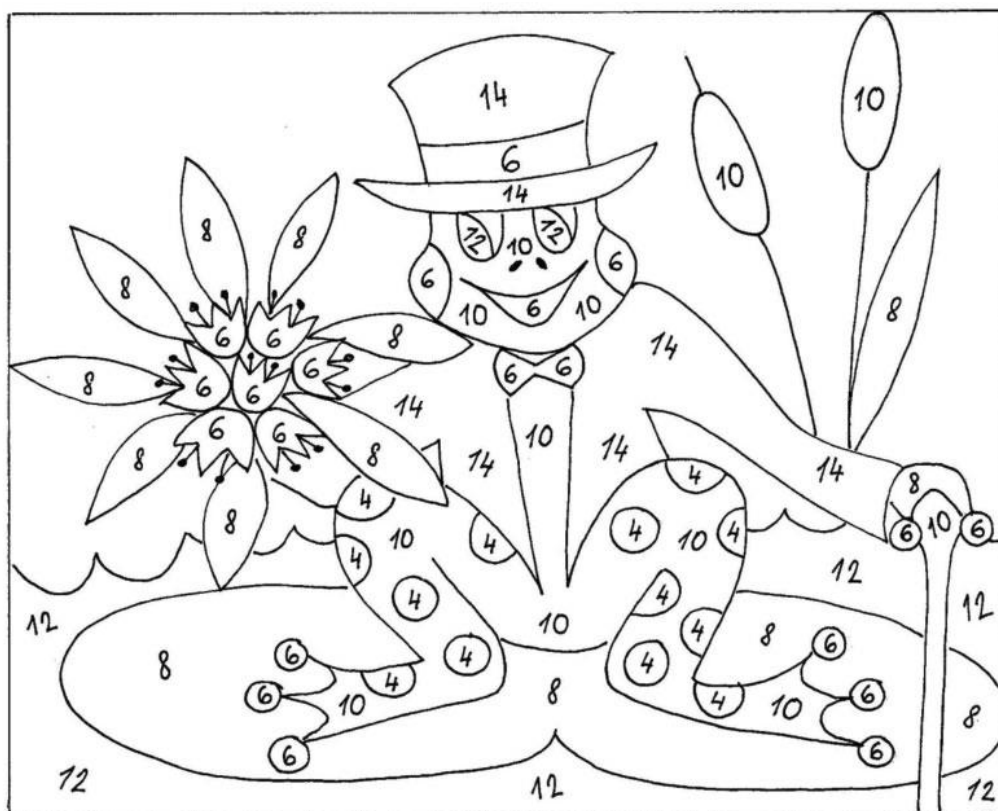
e) sáňkujeme se

f) sbíráme léčivé rostliny

g) oráme a připravujeme půdu

h) stavíme sněhuláky

4. Vybarvi:



2x2

žlutá

3x2

červená

4x2

zelená

5x2

hnědá


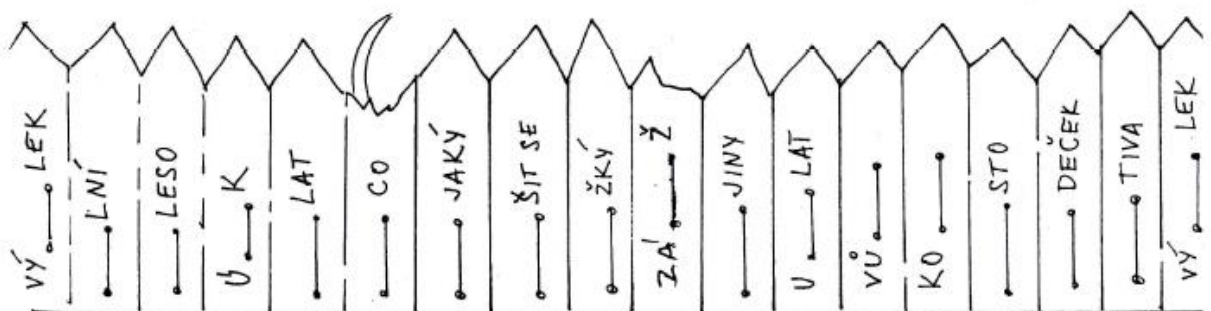

6x2

modrá


7x2


černá

5. Doplň Bě, Pě, Vě, Mě, Dě, Tě, Ně a vybarvi tulipány a plot podle pravidel v pracovním listu:



 Najdi zvířecí rodinky. Každou rodinku vybarvi jinou barvou.

 Zvířátka pojmenuj a napiš, čím přináší hospodáři užitek.



1. Vymysli vlastní jména pro tyto osoby:

kamarádka _____ tatínek _____


maminka _____ strýc _____

kamarád _____ soused _____

teta _____ babička _____

2. Seřaď vlastní jména podle abecedy:

1 Kolik tříkolek je možné vyrobit ze všech koleček na obrázku?



Odpověď:

Vypočítej:

$5 \cdot 3 =$

$3 \cdot 5 =$

$4 \cdot 3 =$

$3 \cdot 4 =$

$3 \cdot 3 =$

$5 \cdot 4 =$

$2 \cdot 6 =$

$1 \cdot 3 =$

Dobrovolná výzva na konec:

JARO

NAJDI

- ___ | Sedmikrásku
- ___ | Pupen
- ___ | Hnízdo
- ___ | Kvetoucí strom
- ___ | Žížalu

DOTKNI SE

- ___ | Kůry stromu
- ___ | Trávy
- ___ | Kočičí srsti
- ___ | Květu tulipánu
- ___ | Kamene

POSLOUCHEJ

- ___ | Zpěv ptáků
- ___ | Tekoucí vodu
- ___ | Rostoucí strom
- ___ | Bzukot včel
- ___ | Mňoukání kořat



Tak jak? DŠ nebo ne?

<http://ds-nebo-ne.blogspot.cz>

Použité zdroje: Datakabinet, Digitální učební materiál č. 58, autorka: Mgr. Šárka Grigarová, detskestranky.cz,
materiál VY_32_INOVACE_209_ČJ_2, autorka: Mgr. Marie Jelínková