







## MATEMATIKA – PROCVIČOVÁNÍ NÁSOBILKY

Milé děti, k práci používejte tabulku na str. 61 v učebnici.

### 1) Spoj příklady s obrázky:

$2 \cdot 3$	
	$2 \cdot 2$
$2 \cdot 6$	
	$2 \cdot 4$
$2 \cdot 0$	
	$2 \cdot 5$
$2 \cdot 1$	

**2) Vyřeš příklady:**



a) Na kabátě jsou 3 knoflíky o dvou dírkách, kolik dírek je dohromady na kabátě?

b) Na košili je 5 knoflíků o dvou dírkách, kolik dírek je dohromady na košili?

**3) Přepiš do násobilky a vypočítej:**

$$2+2+2+2 =$$

$$2+2 =$$

$$2+2+2+2+2+2 =$$

$$2+2+2+2+2 =$$

$$2+2+2 =$$

$$2 =$$

**1) Vypočítej:**

a) Na parkovišti stály čtyři motorky, kolik tam bylo dohromady kol?

b) Na parkoviště přijely dvě motorky, na obou seděli dva cestující. Kolik lidí přijelo dohromady na parkoviště?

c) Z parkoviště odjelo 10 kol, kolik tam stálo motorek?

